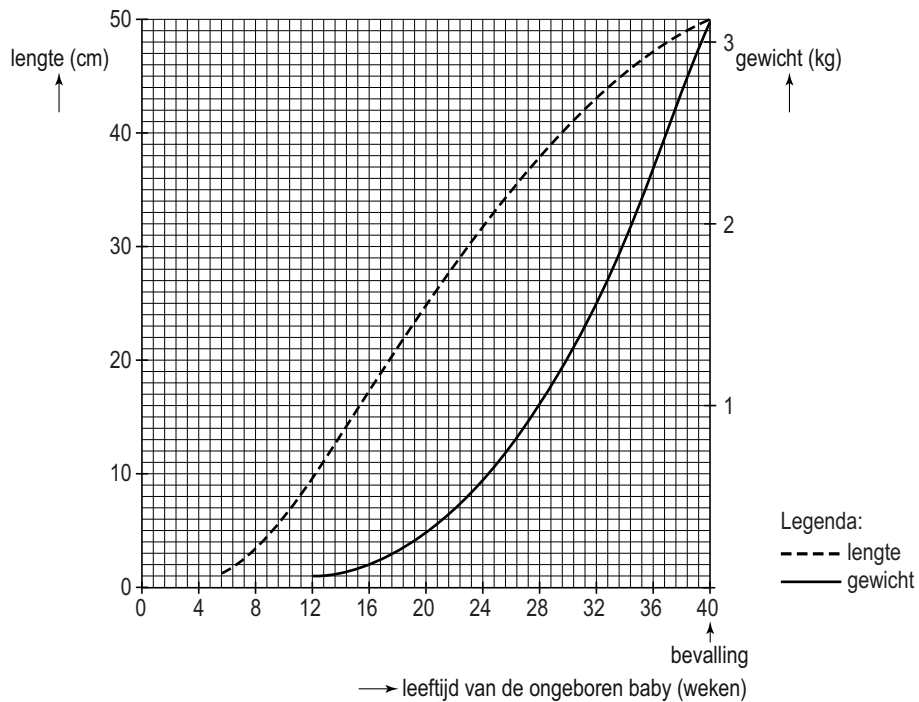


## Zwangerschap en geboorte

- 2p 28 Het diagram hieronder toont de lengte en het gewicht van een ongeboren baby tijdens de zwangerschap.



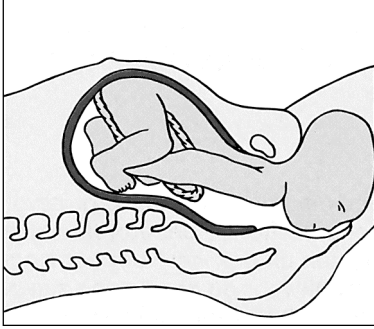
→ Lees uit het diagram af hoe lang en hoe zwaar de ongeboren baby was op de leeftijd van 28 weken.

Schrijf je antwoord zó op:

lengte: ..... cm

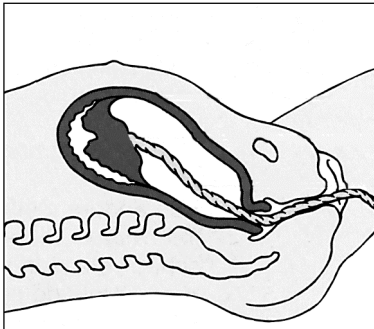
gewicht: ..... kg

- 1p **29** Na ongeveer 40 weken wordt de baby geboren.  
In de afbeelding wordt een fase van de geboorte weergegeven.



Hoe wordt deze fase genoemd?

- A het indalen
  - B de ontsluiting
  - C de uitdrijving
- 2p **30** Als de baby geboren is, volgt de nageboorte (zie de afbeelding hieronder).



Tijdens de nageboorte worden (delen van) bepaalde organen verwijderd uit de baarmoeder.

→ Noem twee van zulke organen.